



LICEO REYNEL

NIT: 41489756-8
PRE ESCOLAR - PRIMARIA - BACHILLERATO BÁSICO - MEDIA VOCACIONAL
Inscripción No. 2732 Aprobación Ministerio de Educación Nacional
Resolución No. 4079 - Dic. 15/99
CONVENIO SENA



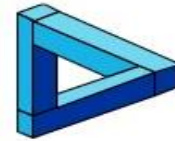
Asignatura: Matemáticas	Curso: 101	Semana: 3	Guía N°: 3
Docente: ESPERANZA VELANDIA		Fecha: 31 MARZO AL 3 DE ABRIL	
Tema: Numero ordinal			
Indicador de Desempeño: Reconoce los números ordinales y los escribe			
Nombre del Estudiante:			

Cualquier inquietud enviarla al correo: esperanzavelandia350@hotmail.com

Celular: 3115997669

Escribe y dibuja las respuestas en el cuaderno

Tacha la rueda:



Dibuja una línea derechita por en medio:

Ilumina donde hay muchos:

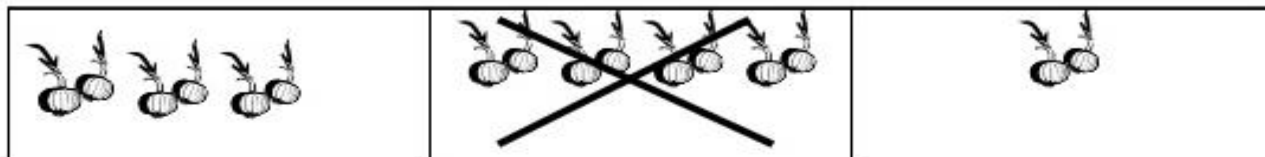


Encierra de tres en tres:




II. ¿En dónde hay más? Pon una X sobre el conjunto donde identifiques más objetos.

Ejemplo: ¿Dónde hay más cebollas?




1. ¿Dónde hay más animales?



2. ¿Dónde hay más lápices?



3. ¿Dónde hay más árboles?



“Un comportamiento ético, honesto, autónomo y responsable es garantía del éxito en el aprendizaje y en la superación de esta crisis mundial”







ESCRIBO EN MI CUADERNO EL CONCEPTO DE NUMERO ORDINAL

CONCEPTO DE NUMERO ORDINAL

En matemáticas, un **número ordinal** es un **número** que nombra la posición de un elemento con respecto a otro. Por **ejemplo**, en la sucesión a b c d, el elemento a es el primero, b el segundo, c el tercero, etc.

Ejemplo

	→ Va en el primer lugar.	Va 1^o
	→ Va en el segundo lugar.	Va 2^o
	→ Va en el tercer lugar.	Va.....
	→ Va en el cuarto lugar.	Va.....

EJEMPLO

REALIZA LA ACTIVIDAD EN EL CUADERNO DE MATEMATICAS.

“Un comportamiento ético, honesto, autónomo y responsable es garantía del éxito en el aprendizaje y en la superación de esta crisis mundial”



Números ordinales

Pinta, contando siempre desde la izquierda:

- El quinto y el séptimo círculo



- El sexto y el octavo triángulo.



- El tercero y el noveno cuadrado.



Realiza la página 35 en el libro

Hacer la página 38 en el libro

Ingresar a YouTube y ver el video en el link de números ordinales

https://www.youtube.com/watch?v=b73rg_UJvdA

Y dibujar lo que más me gusta.

“Un comportamiento ético, honesto, autónomo y responsable es garantía del éxito en el aprendizaje y en la superación de esta crisis mundial”